

GUÍA DEL DIAGNÓSTICO



EXÁMEN

En la Tercera Sesión del Examen Diagnóstico se evalúan las habilidades y competencias de matemáticas y ciencias del nivel intermedio (primaria).

En esa guía encontrarás el desarrollo de temas que se tratarán el examen así como ejercicios a desarrollar fomentando en ti los aprendizajes significativos.



Números

- **Lectura de números enteros del 0 al 1 000 000.**
- **Comparación de números enteros del 0 al 1 000 000.**
- **Lectura de fracciones sencillas de uso cotidiano.**
- **Comparación de fracciones. Fracciones sencillas de uso común.**
- **Lectura y escritura de números decimales.**
- **Comparación de números decimales.**

Resolución de problemas

- **Problemas con sumas de números enteros.**
- **Problemas con restas de números enteros.**
- **Problemas con multiplicación de números enteros.**
- **Problemas de división de números enteros.**
- **Problemas con sumas de números decimales.**
- **Problemas con restas de números decimales.**
- **Problemas con multiplicación y división de números decimales.**
- **Problemas de división de números decimales.**

Medición

- **Equivalencia entre metro, centímetro y milímetro.**
- **Equivalencia entre kilogramo y gramo.**
- **Equivalencia entre litro y mililitro.**
- **Equivalencia entre hora, minuto y segundo.**
- **Medidas de tiempo: lustro, década y siglo.**
- **Uso del reloj y el calendario.**
- **Cálculo de dimensiones reales a partir de una escala.**

Geometría

- **Líneas paralelas y perpendiculares.**
- **Clasificación de ángulos y sus características.**
- **Características de figuras geométricas: círculo y polígonos regulares e irregulares.**
- **Características de cuerpos geométricos: prisma, cubo, cilindro y pirámides.**
- **Eje de simetría.**
- **Partes del círculo: circunferencia, diámetro y radio.**
- **Cálculo de perímetros: círculo, cuadrado, rectángulo y triángulo.**
- **Cálculo de áreas: cuadrado, rectángulo y triángulo.**
- **Cálculo de un volumen por conteo de unidades cúbicas.**

LECTURA Y ESCRITURA DE NÚMERO NATURALES

I.1. Identificar números del 1 al 1000

I.1.2. Comparación de cantidades utilizando signos.

Los números se utilizan en los datos personales y en diversas situaciones y actividades que realizamos diariamente:

- **Situaciones cotidianas:** Para ubicar donde vivimos, la fecha de nuestro nacimiento y la edad que tenemos.
- **Situaciones de la vida:** Para describir los trabajos que realizamos, cocinar, planchar, manejar, coser ropa, vender diversos artículos, etc.,

¡Recuerda que el número cero “0” representa la ausencia de cantidad!

Ejercicio 1

Completa la siguiente serie de números.

2 dos	4 cuatro	6		10 diez
16 dieciséis		18	19	
10 diez	20 veinte			50
84	87	90		96

Ejercicio 2

Escribe los números que faltan en la siguiente secuencia.

100 cien			400	500
	doscientos	Trescientos		
	700	800	900	1000 mil
seiscientos				

Ejercicio 3

Escribe los siguientes números y ordénalos de menor a mayor:

450	721	600	370	200	673	215	310
-----	-----	-----	-----	-----	-----	-----	-----

--	--	--	--	--	--	--	--

Ejercicio 4

Escribe el signo que corresponda a la comparación de las siguientes parejas de números

Ej.	211	<	370
	211	Menor	370
		que	

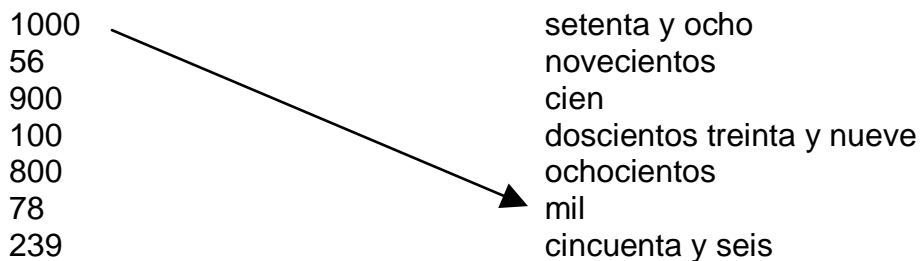
Ej.	325	>	217
	325	Mayor	217
		que	

a.	74		32
b.	150		251
c.	324		589

d.	340		500
e.	450		440
f.	132		18

Ejercicio 5

Relacione las siguientes columnas de números por medio de una línea, como se muestra en el ejemplo:

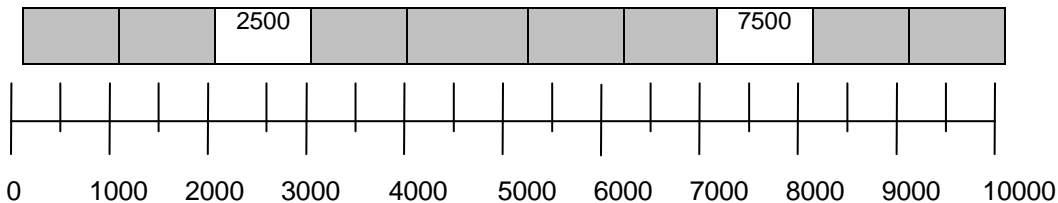


I.2. Identificar y utilizar números hasta el 9000

I.2.1. Comparación de cantidades utilizando signos

Ejercicio 6

Observa la recta numérica y completa con los números que hacen falta.



Ejercicio 7

Escribe los números que faltan en la siguiente secuencia:

1000	2000	3000	4000	
	dos mil			
	7000	8000		
seis mil			nueve mil	diez mil

Ejercicio 8

Compara las siguientes cantidades escribiendo $>$, $<$ o $=$, según corresponda. Localízalas en la recta numérica anterior para ayudarte

Ej.	3478	$>$	2934
a.	1001		1110
b.	7000		6000
c.	9500		8900

Ej.	2345	$<$	9765
d.	3000		3000
e.	5000		7200
f.	9000		2000

Ejercicio 9

Une con una línea los números al lugar que corresponden

dos mil setecientos ochenta y cinco	→	6093
mil novecientos sesenta		1567
seis mil noventa y tres		2785
cinco mil quinientos		9800
mil quinientos sesenta y siete		7801
siete mil ochocientos uno		5500

nueve mil ochocientos
tres mil doscientos ochenta

3280
1960

I. **VALOR POSICIONAL DE NÚMEROS NATURALES EN CANTIDADES DE 6 CIFRAS.**

II.1. Identificar el valor de la posición de las cifras de un número hasta unidades de millar.

II.1. Identificar y utilizar números naturales hasta decenas de millar.

Ejercicio 10

Guadalupe trabaja en una caja de ahorros. Estas cantidades son las que ahorraron algunos trabajadores.

Nombre	Cantidades ahorradas	Total
Ana	\$100 \$10 \$1000 \$5	
Carlos	\$50 \$200 \$5	
Gloria	\$1000 \$500 \$20 \$1	
Maria	\$200 \$7	
Patricia	\$1000 \$80 \$9	

Escribe el número de la cantidad de dinero que corresponde al total del ahorro en el espacio en blanco.

A Patricia le entregaron la siguiente cantidad de dinero el día 30 de octubre \$8,375

En el número \$8,375 el número que representa las monedas de \$1 es el _____

En el número \$8,375 el número que representa las monedas de \$10 es el _____

En el número \$8,375 el número que representa las monedas de \$100 es el _____

En el número \$8,375 el número que representa las monedas de \$1000 es el _____

La primera cifra que esta de derecha a izquierda, representa las unidades.

La segunda cifra que esta de derecha a izquierda, representa grupos de 10 o sea decenas.

La tercera cifra de derecha a izquierda, representa grupos de 100 o sea centenas.

La cuarta cifra de derecha a izquierda, representa grupos de 1000 o sea unidades de millar.

Ejercicio 11

Completa la tabla indicando las unidades de millar, centenas, decenas y unidades de los siguientes números:

Número	Unidades de millar UDM	Centenas C	Decenas D	Unidades U
5400				
524				
132				
2500				
999				
3901				
4351				
7005				
26				
817				

Ejercicio 12

Encierra la opción verdadera en el número 7908

II. El número 7 representa:

- 7 unidades
- 700 unidades

- unidades de millar
- III. El número 0 representa:
- 0 unidades
 - 0 decenas
 - 0 centenas

Ejercicio 13

Ordena de mayor a menor las siguientes cantidades:

36192	160856	29706	32148	34072	555126	415926	543788

El número ciento dieciséis mil cuatrocientos treinta se escribe 116430.

¿Qué información se puede obtener de la escritura de ese número?

Centenas de millar CM	Decenas de millar DM	Unidades de millar UD	Centenas C	Decenas D	Unidades U
1	1	6	4	3	0

Este número tiene 0 unidades, 3 decenas, 4 centenas, 6 unidades de millar, 1 decena de millar y 1 centena de millar.

Ejercicio 14

Indica en la tabla la información que se puede obtener de los siguientes números:

- cuatrocientos cincuenta y siete mil doscientos veintiuno
- trescientos diez y seis mil quinientos veinte
- novecientos treinta y siete mil novecientos noventa y nueve
- diez y seis mil treinta y dos.
- quinientos mil

	Centenas de millar CM	Decenas de millar DM	Unidades de millar UD	Centenas C	Decenas D	Unidades U
a						

b						
c						
d						
e						

El número 457221 es igual a:

4 centenas de millar que equivalen a 400,000 unidades

5 decenas de millar que equivalen a 50,000 unidades

7 unidades de millar que equivalen a 7,000 unidades

2 centenas que equivalen a 200 unidades

2 decenas que equivalen a 20 unidades

1 unidad que equivale a 1 unidad

Ejercicio 15

Escribe a cuántas unidades equivalen las cifras del número 654,397

Centenas de millar CM	Decenas de millar DM	Unidades de millar UD	Centenas C	Decenas D	Unidades U

___ centenas de millar equivalen a _____ unidades

___ decenas de millar equivalen a _____ unidades

___ unidades de millar equivalen a _____ unidades

___ centenas equivalen a _____ unidades

___ decenas equivalen a _____ unidades

___ unidades equivalen a _____ unidades


FRACCIONES SENCILLAS

Los números utilizados en situaciones cotidianas revisados anteriormente son números naturales. Pero además existen los números llamados fraccionarios.

Un ejemplo de los números fraccionarios son los que se utilizan para indicar cuando tomas la mitad de una naranja $\frac{1}{2}$ o cuando se toma un cuarto de un pan $\frac{1}{4}$ o una tercera parte de una tela $\frac{1}{3}$.

Ejercicio 16

Marisol vende listones en un puesto. Escribe la fracción de listón que vendió.





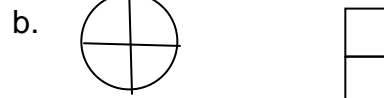



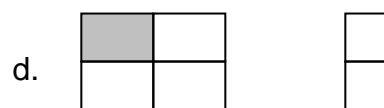


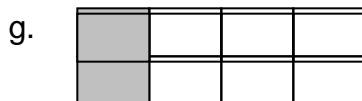
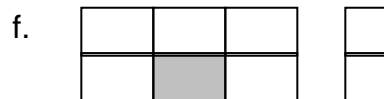
Ejercicio 17

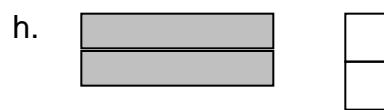
Escribe el número fraccionario que representa el área sombreada en cada dibujo:















Ejercicio 18


Encierra del grupo de manzanas la cantidad que se indica a continuación.


a. $\frac{1}{2}$ 


b. $\frac{1}{4}$ 

c. $\frac{2}{3}$ 

d. $\frac{3}{5}$ 

e. $\frac{3}{6}$ 

f. $\frac{2}{8}$ 


g. $\frac{1}{10}$ 




Ejercicio 19

Divide la figura y sombrea de acuerdo al número fraccionario que se indica. Escribe la fracción representada.


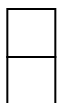
a. dos medios




b. dos tercios




c. tres cuartos




d. cuatro quintos





e. dos sextos





f. siete octavos



g. diez décimos



h. un medio



III.2. Identificar fracciones equivalentes

Ejercicio 23

En un entero hay:

a. _____ tercios

b. _____ sextos

c. _____ cuartos

d. _____ octavos

e. _____ medios

f. _____ séptimos

- g. ¿Cuántos medios hay en tres enteros? _____
- h. ¿Cuántos quintos hay en dos enteros? _____
- i. ¿Cuántos tercios hay en cuatro enteros? _____

IV LECTURA Y ESCRITURA DE CANTIDADES HASTA CENTÉSIMOS, A PARTIR DEL PLANTEAMIENTO DE SITUACIONES DE LA VIDA COTIDIANA.

IV.1. Leer y ordenar números decimales en situaciones cotidianas.

IV.2. Comparar número decimales entre sí.

IV.3. Valor posicional en número decimales hasta centésimos.

Número decimales.

Analizaremos uno de estos números.

El precio del frasco de café es de \$15.60, quince pesos con sesenta centavos. Quince pesos es la parte entera y los sesenta centavos son la parte decimal:

15.60 Parte decimal

En la parte decimal puede haber uno o varios números decimales.

El primer número a la izquierda del punto decimal se llama décimo y representa.

El segundo número a la izquierda del punto decimal se llama centésimo.

El tercer número a la izquierda del punto decimal se llama milésimo.

Ejercicio 26

En las siguientes oraciones marca con una equis las cantidades que contengan número decimales:

a. Queda $\frac{1}{2}$ botella de agua.
b. Mide 0.96 centímetros.
c. En el frutero hay 12 manzanas.

d. Son 70 setenta centavos.
e. El jabón cuesta \$1.20
f. El pastel está dividido en $\frac{4}{4}$

Ejercicio 27

Los obreros de una fábrica decidieron ahorrar. Para ello depositaron semanalmente un poco de dinero en su cuenta de ahorro.

Estos son los ahorros que lograr durante los seis primero meses:

Miembro	Cantidad ahorrada
Señora Millán	\$ 796.05
Señor Cuevas	\$ 700.75
Señora Limón	\$ 700.50
Señor Rivera	\$ 680.95
Señor Campos	\$ 836.20
Señor Cervantes	\$ 836.95
Señor Hernández	\$ 796.40

Observe que la Señora Millán ahorró \$796.05

Si colocamos en una tabla la cantidad que ahorró tenemos:

Centenas C	Decenas D	Unidades U	Punto decimal	Décimos	Centésimos
7	9	6	.	0	5
Pesos			Centavos		

Ejercicio 28

Completa la tabla y analiza las cantidades que cada uno de los obreros ahorró.

Miembro	Centenas C	Decenas D	Unidades U	Punto decimal	Décimos	Centésimos
Señora Millán	7	9	6	.	0	5
Señor Cuevas						
Señora Limón						
Señor Rivera						
Señor Campos						
Señor Cervantes						
Señor Hernández						
	Pesos			Centavos		

Observa la tabla anterior y responde:

- ¿Quién ahorró más dinero? _____
- ¿Quién ahorró menos dinero? _____
- El Señor Cuevas y la Señora Limón ahorraron casi lo mismo. ¿Quién de los dos ahorró más? _____
- ¿Cuánto más ahorro? _____
- ¿Quién ahorró más, el Señor Campos o el Señor Cervantes? _____
- ¿Cuánto más? _____

Ejercicio 29

Ordena los siguientes números empezando por el menor:

99.03	99.30	15.28	15.05	15.100	99.250
-------	-------	-------	-------	--------	--------

--	--	--	--	--	--

V. COMPARACIÓN DE NÚMEROS DECIMALES HASTA MILÉSIMOS EN SITUACIONES DE DINERO Y MEDIDA.

Ejercicio 30

Los albañiles que trabajan en la construcción de una casa, ayer hicieron el colado del techo.

Cuando terminaron, el ingeniero encargó en “El buen sazón” dos pollos asados, tortillas y refrescos. Cada uno de los albañiles aportó un poco de dinero para la propina:

Escribe con letra las cantidades aportadas.

Albañil	Cooperación	Cantidad con letra
Esteban	\$1.25	Un peso veinticinco centavos
Eulalia	\$2.20	
Socorro	\$1.75	
Rodrigo	\$2.05	
Felipe	\$1.50	
Anselmo	\$2.00	

Ahora, analiza las cantidades. Anota en la tabla las cantidades con que cooperaron los albañiles:

Albañil	Unidades	Punto decimal	Décimos	Centésimos
Esteban	1	.	2	5
Eulalia				
Socorro				
Rodrigo				
Felipe				
Anselmo				

Con base en la información de la tabla contesta las siguientes preguntas:

- ¿Cuánto más dio Rodrigo que Anselmo? _____
- ¿Cuánto menos dio Felipe que Socorro? _____
- ¿Cuánto dieron entre Esteban, Socorro y Felipe? _____
- Ordene las cantidades de menor a mayor:

--	--	--	--	--	--	--

Ejercicio 31

Luis Soto trabaja en un centro de salud como auxiliar de enfermería.

Una de las principales actividades que realiza, es la toma de algunos datos generales de las personas que asisten a consulta.

Encierra en un círculo la respuesta que complete correctamente cada oración:

- La estatura se mide en
 - Metros y centímetros
 - Kilogramos
- El peso de una persona se mide un :
 - Metros y centímetros
 - Kilogramos
- Normalmente, una persona adulta mide:
 - Menos de un metro
 - Alrededor de un metro y medio

Para hacer un registro más rápido, Luis Soto anota los datos en una tabla como la siguiente:

Paciente	Edad en años	Estatura	Peso
Ana Rojas	38	1.61	50.505 kg
Felipe Heredia	12	1.45	48.299 kg
Natalia Vargas	15	1.53	55.125 kg
Gerardo Herrera	40	1.70	85.250 kg
César Ramírez	55	1.76	77.304 kg
Marina Lima	25	1.65	60.555 kg
Sofía Vértiz	18	1.65	60.407 kg
Luis Pérez	10	1.42	40.800 kg
José López	62	1.60	50.580 kg
Manuel Álvarez	33	1.69	91.538 kg

Revisa la tabla anterior y encierra en un círculo la respuesta correcta:

1. ¿Qué paciente tiene mayor edad?

- a. Ana Rojas b. Gerardo Herrera c. José López

2. ¿Qué paciente tiene menor estatura?

- a. Luis Pérez b. César Ramírez c. Ana Rojas

3. ¿Qué paciente tiene mayor peso?

- a. Gerardo Herrera b. Luis Pérez c. Manuel Álvarez

Para llenar los expedientes Luis Soto le dictó a la secretaria los datos de la tabla. Observa cómo comenzó a dictar el peso y completa la tabla:

Paciente	Peso	Dictado
Ana Rojas	50.505 kg	Cincuenta kilos quinientos cinco gramos
Felipe Heredia	48.299 kg	Cuarenta kilos doscientos noventa y nueve gramos
Natalia Vargas	55.125 kg	
Gerardo Herrera	85.250 kg	
César Ramírez	77.304 kg	

Marina Lima	60.555 kg	
Sofía Vertíz	60.407 kg	
Luis Pérez	40.800 kg	
José López	50.580 kg	
Manuel Álvarez	91.538 kg	

Completa la tabla con la información que se solicita:

Paciente	Decenas D	Unidades U	Punto decimal	Décimos	Centésimos	Milésimos
Ana Rojas	5	0	.	5	0	5
Felipe Heredia						
Natalia Vargas						
Gerardo Herrera						
César Ramírez						
Marina Lima						
Sofía Vertíz						
Luis Pérez						
José López						
Manuel Álvarez						

Resuelva los siguientes problemas.

1. En esta semana los trabajadores tienen que reparar **6.6** km. de carretera. Cada hora reparan **1.2** km.

¿Cuántas horas tardarán en reparar los 6.6 km de carretera?

2. En la siguiente carretera los trabajadores tienen que reparar **5.25** km. Cada hora reparan **1.5** km.

¿Cuántas horas tardarán en reparar los 5.25 km de carretera?

I. UNIDADES DE MEDIDA: LITRO, KILOGRAMO Y METRO

Ejercicio 1

Lidia tiene dos recetas para preparar panqués.

Receta 1	Receta 2
Panqué de almendras 1 taza de almendras 2 tazas de harina 1 barrita de mantequilla 1 taza de azúcar pulverizada 1 clara de huevo 1/2 taza de leche 3 cucharadas soperas de chocolate en polvo	Panqué de piloncillo 1 cono de piloncillo 1 cáscara de naranja 1 raja de canela 3 tazas de harina 1 taza de leche 1 clara de huevo 1 taza de mantequilla

Lee cuidadosamente las dos recetas y contesta:

A. ¿En qué receta se utiliza menor cantidad de harina?

B. ¿En qué receta se utiliza mayor cantidad de leche?

C. ¿De qué ingrediente se utiliza la misma cantidad en ambas recetas?

Ejercicio 2

Como Lidia va a tener invitados para el desayuno, decidió prepara atole de 2 sabores, para hacerlo consultó las siguientes recetas:

Atole de Fresa	Atole de Guayaba
1 litro de leche	1 litro de leche
$\frac{1}{2}$ kg. De fresa	$\frac{1}{2}$ kg. De guayaba
2	2
$1\frac{1}{2}$ taza de azúcar	1 taza de azúcar
20 minutos para prepararlo	30 minutos para prepararlo

Subraye la respuesta correcta:

a. ¿En qué receta, Lidia requiere media taza más de azúcar?

atole de fresa

Atole de guayaba

Atole de cajeta

b. ¿Qué cantidad de guayaba necesita para preparar atole utilizando un litro de leche?

$\frac{1}{2}$ kg de guayaba

1 kg de guayaba

$1\frac{1}{4}$ kg de guayaba

c. ¿En cuánto tiempo se prepara el atole de fresa?

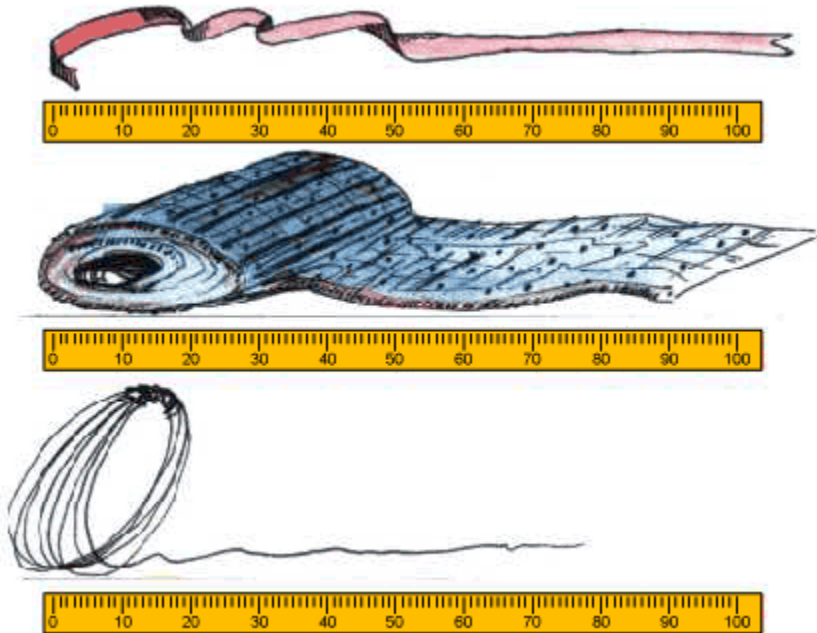
50 minutos	5 minutos	20 minutos
------------	-----------	------------

Los ingredientes de las recetas se miden para que los alimentos queden sabrosos.

En las recetas del atole, la leche se midió con el *litro (l)* y la fruta con el *kilogramo (Kg)*. Medir es utilizar diversas unidades como referencia o patrón para conocer propiedades de objetos como su longitud, su peso, su área, etc.,

Ejercicio 3

Seguramente has observado cómo miden el largo de una tela, el listón, el alambre y el tubo. ¿Has utilizado un metro?



Para medir el largo y el ancho de las cosas se utiliza el metro.

El metro se divide en 100 partes iguales, cada parte recibe el nombre de centímetro (cm), esta división del metro nos permite medir con más precisión

Te invitamos a que construyas un metro de papel o consigas uno y midas las siguientes longitudes:

Largo de la puerta	
Largo de su mesa	
La altura de una ventana	
El ancho de su cuarto	
El largo de su cama	

El metro es una unidad de longitud que se representa con la metro m (metro)

Ejercicio 4

En las tiendas comerciales, en el mercado, en las tortillerías, en la carnicería, es común observar básculas.

Observa la siguiente lista y encierra en un círculo los productos que compras por kilogramo:

Leche	Azúcar	Aceite	Cemento
Frijol	Agua	Arroz	Carne

El kilogramo es una unidad utilizada para medir el “peso” de los objetos, se representa como kg Otra unidad de peso es el gramos g

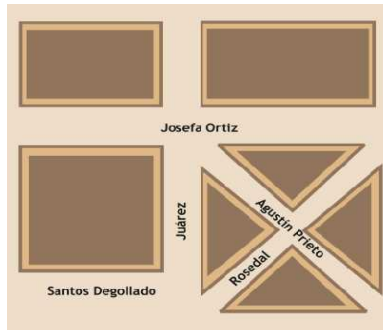
II. LÍNEAS PARALELAS Y PERPENDICULARES

Dos rectas que al unirse en un punto forman un ángulo recto se llaman perpendiculares

Como usted ha podido observar, todas las rectas perpendiculares forman ángulos rectos

Ejercicio 7

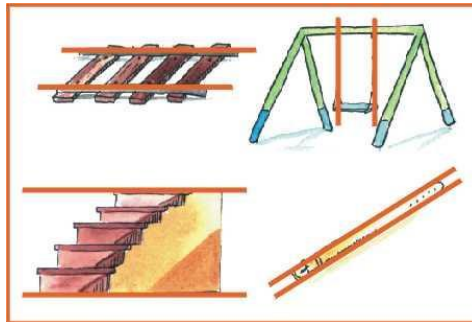
En este plano, las calles Josefa Ortiz y Agustín Prieto no son perpendiculares porque al juntarse en un punto, no forman un ángulo recto.



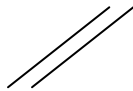
Escribe el nombre de las calles que sean perpendiculares

Ejercicio 8

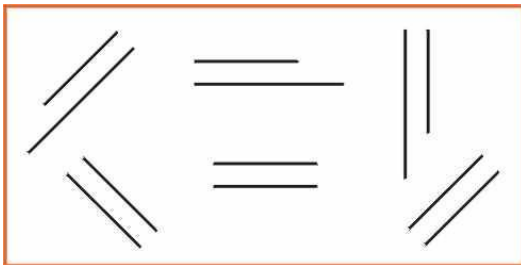
Observa los dibujos



Las rectas del cinturón son así:



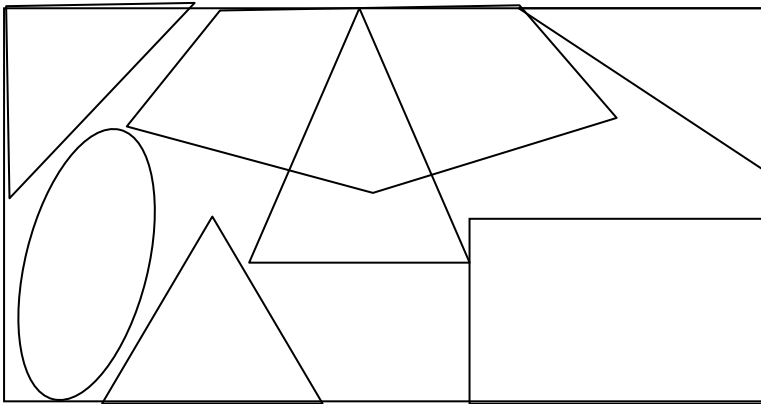
Observa las líneas, a este tipo de rectas se les llama paralelas.



III. TIPOS DE TRIÁNGULOS: EQUILÁTERO, ESCALENO E ISÓSCELES.

Ejercicio 9

Arturo es un joven muy creativo, ha elaborado un vitral que adornará la ventana de su cuarto.



Utiliza una regla para tomar la medida de los triángulos en el cuadro siguiente:

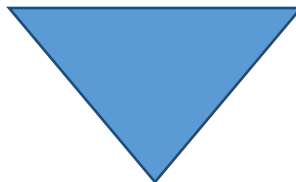
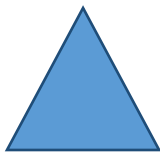
Triángulo 1	Triángulo 2	Triángulo 3
Lado 1 cm	Lado 1 cm	Lado 1 cm
Lado 2	Lado 2	Lado 2
Lado 3	Lado 3	Lado 3

Como puedes darte cuenta con las mediciones hechas anteriormente, es posible saber con claridad en qué son diferentes los tres triángulos del vitral.

Cuando se toma en cuenta la medida de los lados de los triángulos, se puede clarificar en: triángulos equiláteros, triángulos isósceles y triángulo escalenos.

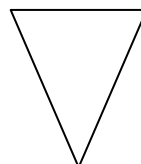
Ejercicio 10

Triángulos equiláteros:



1. ¿Cómo son entre sí los lados de un triángulo equilátero?

Triángulos Isósceles



2. ¿Cómo son entre sí los ángulos de un triángulo isósceles?

Triángulos escalenos (Dibuja)

3. ¿Cómo son entre sí los lados de un triángulo escaleno?

Por la medida de sus lados los triángulos se clasifican en:

Triángulos equiláteros: Tienen sus tres lados iguales.


Triángulos isósceles: Tienen dos lados iguales.

Triángulos escalenos: Tienen tres lados desiguales.

IV. EJES DE SIMETRÍA

Observa a tu alrededor y encontrarás una gran cantidad de figuras en las que una mitad parece ser reflejo de la otra.

Esas figuras se llaman simétricas. Aquí tienes un ejemplo:



La geometría ayuda a la creación de diseños que presentan ante todo armonía y belleza.

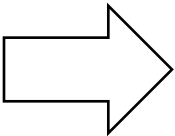
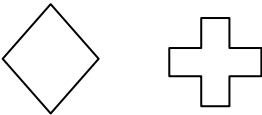

Eje de simetría: el eje de simetría es una línea recta que divide al objeto o figura en dos partes iguales, de tal manera que si fuera posible doblar la figura sobre esa línea todos sus puntos coincidirían. Una figura puede tener varios ejes de simetría.

Recuerda: Una figura geométrica puede tener ningún, uno o varios ejes de simetría, por ejemplo. Dibújalos

Triángulo escaleno	Triángulo isósceles	Cuadrado
Ningún eje de simetría	Un eje de simetría	Cuatro ejes de simetría

Ejercicio11

En el siguiente recuadro dibuja las figuras que tengan la cantidad de ejes de simetría que se indican:

Un eje de simetría	Dos ejes de simetría	Cero eje de simetría
		

Una recta es eje de simetría de una figura si al doblarla a lo largo de una recta coinciden los bordes de la figura.

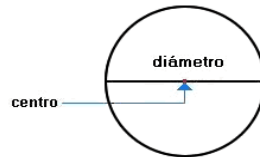
V. PARTES DEL CÍRCULO: CIRCUNFERENCIA, DIÁMETRO Y RADIO.

Al contorno de un círculo se le llama ***circunferencia***

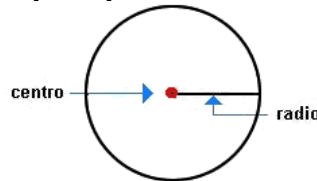


La parte interior determinada por la circunferencia se llama ***círculo***

El diámetro de un círculo es la línea recta que pasa por el centro del círculo y une dos puntos de su perímetro.



El radio de un círculo es la línea recta que une cualquier punto del contorno con el centro del círculo.




Dos veces el radio es igual al diámetro. $2r = D$

VI. CALCULO DEL PERÍMETRO EN CUADRADOS, RECTÁNGULOS Y TRIÁNGULOS

A la medida de la orilla de las figuras se le llama perímetro, es decir, el perímetro es la medida del contorno de una figura. El perímetro de los cuadrados, rectángulos y triángulos se calcula sumando los cuatro lados de la figura. $\text{Perímetro} = L + L + L + L$

I. **Ejercicio 12**

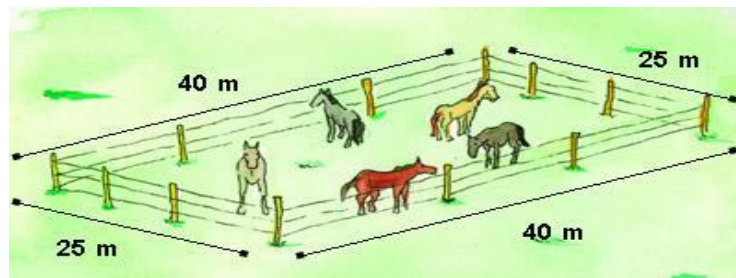
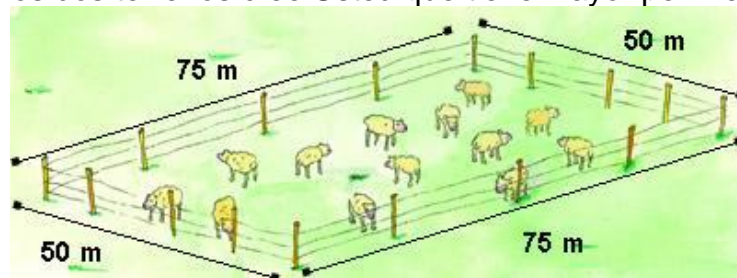
Dibuja una figura geométrica. Escribe el nombre de cada una de ellas y encuentra el perímetro de cada figura:

	
Perímetro: ____ 4 ____ cm	Perímetro: _____ cm

Pancho	
Perímetro: _____cm	Perímetro: _____cm

II. **Ejercicio 13**

Don Pancho va a cercar dos terrenos con alambre de púas, uno para borregos y otro para caballos. ¿Cuál de los dos terrenos cree Usted que tiene mayor perímetro?



A. Calcula cuantos metros necesita de alambre Don Pancho para cercar con una hilada el terreno del corral de borregos.

Efectúe la siguiente suma para una hilada de púas:

$$75 \text{ m} + 75 \text{ m} + 50 \text{ m} + 50 \text{ m} = \underline{\hspace{2cm}} \text{ m}$$

El perímetro del corral de borregos mide _____ metros.

B. Calcula el perímetro del corral rectangular de los caballos. Escribe las medidas de los lados del corral que faltan y obtén la suma:

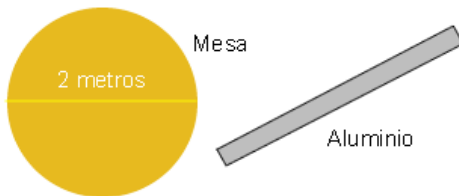
$$\underline{\quad} \text{ m} + 40 \text{ m} + \underline{\quad} \text{ m} + 25 \text{ m} = \underline{\quad\quad\quad} \text{ m}$$

El perímetro del corral de los caballos mide metros.

V. CÁLCULO DEL PERÍMETRO DE CÍRCULOS

III. Ejercicio 14

Ricardo quiere proteger una mesa circular de 2 metros de diámetro con una moldura de aluminio.



¿Cómo mediría usted el contorno de la mesa para saber que longitud tiene la moldura?

Ricardo utilizó una cinta métrica, él fue colocando la cinta por todo el contorno de la mesa, hasta completar toda la circunferencia.

De esta manera él observó que la medida del perímetro es aproximadamente tres veces la medida del diámetro de la mesa.

D	D	D	
2 m	2 m	2 m	

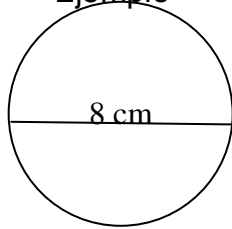
Los matemáticos han establecido la relación entre el diámetro (D) y el perímetro (P) de un círculo como: $P = \pi D$, en donde la letra griega π (pi) representa el número de veces que el diámetro se repite en la medida del perímetro y es igual a $\pi = 3.14$

El perímetro de un círculo se obtiene al multiplicar π (3.14), por el Diámetro o por dos veces el radio, ya que el diámetro es dos veces el radio. $P = \pi D$ ó $P = 2\pi r$

IV. **Ejercicio 15**

Utiliza la relación $P = \pi D$ y calcula el perímetro de los siguientes círculos:

A. **Ejemplo**



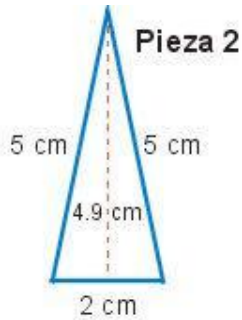
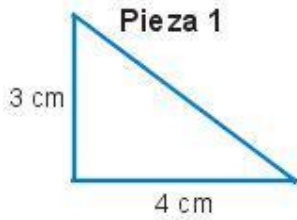
$$P = \pi D$$

$$P = 3.14 \times 8 \text{ cm}$$

$$P = 25.12 \text{ cm}$$

B.

Ejercicio 17



Rocío vende rompecabezas triangulares de madera como las siguientes:

Tomando como referencia la base y la altura de cada pieza triangular calcula el área de cada una.

A. **Ejemplo Pieza 1**

$$\text{Área del triángulo } \frac{\text{base} \times \text{altura}}{2}$$

$$A = 4 \text{ cm} \times 3 \text{ cm}$$

$$A = 12$$

2
 Área pieza 1 = 6cm²


B. Pieza 2
 Área = _____

C. Pieza 3
 Área = _____

VII. EQUIVALENCIA ENTRE METROS, CENTÍMETROS Y MILÍMETROS

a. ¿Cuántos centímetros tiene un metro? _____

Observe la regla y, conteste las preguntas.

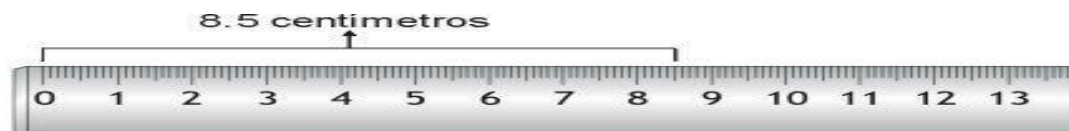


Un milímetro es la décima parte de un centímetro

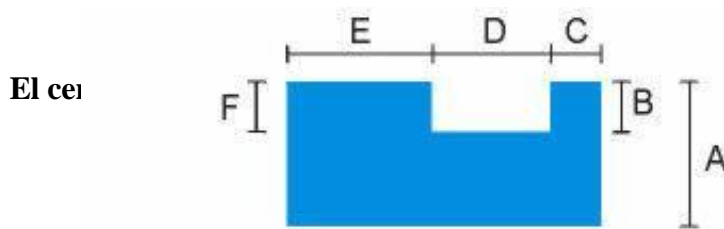
c. ¿Cuántos milímetros hay en cinco centímetros? _____



d. Y en 8.5 cm cuantos milímetros hay? _____



Mide en milímetros y centímetros, la figura y escriba la medida donde corresponda.



A = _____ mm = _____ cm D = _____ mm = _____ cm

B = _____ mm = _____ cm E = _____ mm = _____ cm

C = _____ mm = _____ cm F = _____ mm = _____ cm

VIII. EQUIVALENCIA ENTRE KILOGRAMO Y GRAMOS Y LITROS Y MILILITROS

Ejercicio 19

Algunos productos que se presentan a continuación son los que doña Amalia utiliza en la preparación de licuados y jugos.

A. Encierra en un círculo el nombre de los productos que son líquidos y se compran por litros y mililitros.

Azúcar	Piña	Chocolate en polvo	Sandía
Leche	Naranjas	Miel	Agua

Observa los

siguientes productos:



Para medir líquidos, se utilizan unidades de capacidad como el litro (l) y el mililitro (ml)

Un litro (l) = 1000 mililitros (ml)

B. Marca con una X el nombre de los productos que acostumbras comprar por kilogramo.

1. Azúcar 2. Miel 3. Sandía 4. Canela 5. Aceite 6. Huevos

Para medir los productos sólidos se utilizan unidades de peso como el kilogramo (kg) y el gramo (g)

1 kilogramo (kg) = 1000 gramos (g)

Ejercicio 20

Observa todo lo que Amalia compró.



$\frac{1}{4}$ kg de pollo



$\frac{1}{2}$ kg de tortillas



300 gramos de manteca



20 mg de pimienta



2 kg de plátanos



$\frac{3}{4}$ kg de jamón

De los productos que Amalia compró el día de hoy, subraye la opción que considere correcta:

A. ¿Cuánto pesa el pollo y las tortillas juntos?

1. Un kilo y trescientos gramos
2. Tres cuartos de kilogramos
3. Un kilogramo y medio

B. ¿Cuánto pesan sumados la manteca y los plátanos?


1. Dos kilogramos
2. Trescientos gramos
3. Dos kilos trescientos gramos

Ejercicio 21

Ésta es la cafetería de Sandra.



En ella los clientes consumen café en vasos de diversos tamaños.
Obsérvelos.



La siguiente tabla muestra la cantidad de café que los clientes consumen en una hora.

Vasos	Consumo de café	Contenido de cada vaso	Total en mililitros
Chico	25 vasos	100 ml	2 500 ml
Mediano	18 vasos	150 ml	2 700 ml
Grande	8 vasos	250 ml	2 000 ml

**Recuerda la unidad de medida más utilizada para medir líquidos es el litro.
Un litro contiene 1000 mililitros.**

Subraya la opción que considere correcta:

- A. ¿Cuántos litros de café hay en 2 500 mililitros?
- a) 2 litros
 - b) 2 litros y cuarto
 - c) 2 litros y medio
- B. ¿Cuántos litros de café hay en 2 700 mililitros?
- a) 2 litros y 700 mililitros
 - b) 700 litros
 - c) 2 700 litros

C. ¿Cuántos litros de café hay en 2 000 mililitros?

- a) 200 litros
- b) 2 litros
- c) 20 000 litros

Ejercicio 22

La siguiente tabla muestra la cantidad de café capuchino que se vende en una hora.

A. Calcula el consumo total en litros y escríbelo en la tabla:

Café capuchino

Vasos	Consumo de café	Contenido de cada vaso	Total en litros
Mediano	13 vasos	150 ml	<input type="text"/>
Grande	9 vasos	250ml	<input type="text"/>

B. Aproximadamente, ¿Cuántos litros de café capuchino se consumen en una hora?. Encierra en un círculo el inciso que considere correcto:

- a) 3 litros
- b) 5 litros
- c) 4 litros 200 mililitros



Los temas que pueden ser abordados en tu examen diagnóstico de la 3era. Sección de Ciencias, son los siguientes:

Ser Humano

La tolerancia y discriminación.

Procedimiento para resolver problemas.

La influencia de la familia en las personas.

Acciones que permiten mejorar las relaciones familiares.

Plantear soluciones a problemas que afectan a una comunidad.

Cambio y transformación

Cambios producidos por el hombre y la naturaleza.

Diversidad cultural

Diversidad cultural mexicana.

Formas de conservar la diversidad de cultural mexicana.

Medio Ambiente

Componentes que integran una comunidad.

La ubicación y límites geográficos de México.

La diversidad natural de México.

Formas de conservar la diversidad natural de México.



I. INDIVIDUO.

⇒ **Importancia del respeto a las diferencias.**

➤ En que nos parecemos y en que somos diferentes

Las personas tenemos semejanzas y diferencias. Reconocer en qué nos parecemos y en qué somos diferentes es importante para conocernos mejor. Comprender que las diferencias entre las personas no hace más valiosas a unas que a otras, y que debemos respetar nuestras diferencias, es importante para vivir mejor.

¿Qué son las diferencias?

¿Cuándo decimos que alguien es diferente a uno?

¿En qué nos fijamos para decir que una persona es diferente?

¿Las diferencias que existen entre los integrantes de un grupo hacen valer más, a unos, que otros?

Es importante conocer nuestro derecho a ser diferentes, pero sobre todo, ejercerlo. Es decir, debemos hacer todo lo posible para que este derecho se cumpla en nuestra vida diaria, en el trato que tenemos con otras personas en nuestra casa y fuera de ella.

o Lea Cuidadosamente los siguientes textos:

"Yo quiero seguir estudiando, pero mi esposo se niega porque dice que voy a descuidar a nuestros hijos."

"En este país los más atrasados son indios."

• ¿Qué opina de los textos anteriores?

• ¿En alguno de ellos se discrimina o se hace menos a las personas?

• ¿Por qué?

• ¿En qué lo nota usted?

La forma en que algunas personas se expresan muestra, de manera equivocada, que alguien puede ser inferior por su color de piel, de pelo u ojos. También que por pertenecer a grupos indígenas, las personas son inferiores a otros grupos. No reconocen el valor que representa la existencia de personas con apariencias distintas, con maneras diferentes de pensar y de comportarse.

La convivencia basada en el respeto a las diferentes formas de pensar, ser y actuar, favorece el trato y desarrollo de los distintos grupos de personas que habitan la Tierra.

¿Qué es el Racismo?

En todos los países existe el racismo. México no es la excepción. Por eso, muchas personas son tratadas con desprecio, por el solo hecho de ser diferentes. El racismo es una forma de discriminación. Es racista, quien trata con menosprecio a una persona porque piensa que es inferior.

Por ejemplo, se dice, equivocadamente, que una persona negra, morena u oriental es inferior a una persona blanca.

Otras formas de discriminación son las que sufren las mujeres, los indígenas, los ancianos, los indigentes, los enfermos de sida y los discapacitados. Hay quienes piensan que estas personas valen menos.

Para evitar el racismo y otras formas de trato desigual, **es necesario comunicarnos con las personas que consideramos diferentes**. Es preciso escucharlas, tratar de entender sus opiniones y maneras de vivir. Sólo así podremos conocerlas y unirnos a ellas para defender, día a día, **valores universales como el derecho a la vida, el respeto a las diferencias y la aplicación honesta de la justicia**.

La discriminación es una práctica que existe en México y en muchas partes del mundo. La discriminación es un trato desigual que reciben algunas personas por el hecho de ser diferentes a lo que otros consideran correcto o verdadero. La discriminación es el resultado de una actitud intolerante ante las diferencias que existen entre los seres humanos. Este trato desigual lo sufre la gente por el color de su piel, por su raza, por la clase social a la que pertenece, por sus creencias o por sus preferencias sexuales, entre otras causas. Los prejuicios también son una forma de intolerancia y discriminación. Para combatirlas, es necesario dialogar con los demás, aceptar y respetar las diferencias, así como reconocer los derechos humanos de

⇒ Identificación y resolución de problemas

⇒ Qué problemas tenemos y cómo podemos resolverlos

¿Qué hacemos ante un problema?

Cuando se tiene un problema o una dificultad se reacciona de distintas formas. ¿Usted qué hace? _____

En nuestra vida diaria enfrentamos problemas o dificultades distintas. Para solucionarlos es necesario: **primero**, identificar bien qué tipo de problema o dificultad se tiene, es decir, se debe tener claro si se trata únicamente de un problema o de varios; **segundo**, tratar de identificar las causas que lo provocan; **tercero**, definir los propósitos u objetivos que queremos lograr, señalando si es todo el problema el que vamos a solucionar o algunas partes de él; **cuarto**, proponer y realizar actividades que lleven a su solución, y **quinto**, revisar o evaluar los resultados alcanzados.

Con la siguiente tarea podremos resolver algunos problemas. Entreviste a tres o cuatro compañeros que asisten a su círculo de estudio y pregunte:

1. ¿Qué problemas ha tenido para asistir a su círculo de estudio?

1. _____

2. _____

3. _____

2. ¿Cuáles son las causas de ese problema?

1. _____

2. _____

3. _____

Organice la información como lo indica el siguiente ejemplo:

Problema	Causas que lo provocan
no puede leer los Libros escritos con letras pequeñas. unos lentes.	1. Es una persona mayor que tiene la vista cansada.

Platiqué con las personas que entrevistó en su círculo de estudio, sobre cuál podría ser la solución a cada uno de los problemas.

Por ejemplo, en el caso del problema anterior, el propósito podría ser:

Conseguir unos lentes para la señora Juana



En las columnas de abajo anote los problemas que identificaron en su círculo de estudio y las propuestas de solución que eligieron para cada uno de ellos.

Problemas	Propuestas de solución
Juana tiene la vista cansada y no puede leer los libros escritos con letras pequeñas.	Hacer una rifa para reunir el dinero.
1.	1.
2.	2.
3.	3.

Elige uno de los problemas planteados anteriormente y elabora una lista de las actividades que pueden realizar para resolver el problema, anotando la fecha de su realización y los resultados obtenidos.

Fíjese en el ejemplo:

Problema	
La señora Juana necesita unos lentes.	
Actividades y fecha	Resultados
1. Conseguir un objeto para rifarlo, a más tardar el 3 de febrero .	Entre familiares y vecinos reunimos productos para integrar una despensa.
2. Hacer los boletos y una lista donde se anotarán los participantes. 4 de febrero .	Entre todos elaboramos los boletos y nuestro asesor hizo la lista.
3. Invitar a los posibles participantes y vender los boletos. 6 al 15 de febrero .	Vendimos casi todos los boletos.
4. Realizar la rifa. 17 de febrero .	Se entregó el premio a la ganadora.
5. Comprar los lentes. 17 de febrero .	La señora Juana tiene lentes.

Anota tus respuestas en la tabla siguiente:

Problema	
1.	
Actividades y fecha	Resultados
1.	
2.	
3.	
4.	
5.	

Recordemos que...

La participación, cooperación y ayuda mutua entre las personas que integramos la Plaza Comunitaria, son actitudes que nos pueden conducir a lograr mejores resultados en las actividades que realizamos. Esto, además, permite fortalecer las relaciones de respeto y confianza para trabajar en grupo y sentirse parte de él.

Las formas de identificar y resolver problemas que aplicamos en el grupo, nos pueden ayudar a resolver otros problemas personales y familiares.

II. FAMILIA

⇒ **Actitudes que favorecen las buenas relaciones familiares; el respeto, la igualdad, solidaridad y honestidad.**


☞ Las relaciones en mi familia.

El tipo de relaciones que establecemos las personas que formamos parte de una familia son variadas. A veces, hay respeto, comunicación y ayuda mutua; otras veces se vive el abuso de autoridad, la falta de comunicación y la violencia.

El reto de todos los que somos parte de una familia es mejorar nuestras relaciones día con día para vivir y sentirnos mejor. Pero no todas las familias son iguales, hay distintos tipos de familias. Pueden estar formadas por parientes, amigos y compañeros de trabajo.

Entendemos por familia a aquel grupo de personas que, por lo general, establecen relaciones de convivencia y ayuda mutua, sean o no parientes. En algunas culturas las personas consideran parte de su familia a los componentes de la naturaleza, como el sol, el agua, las montañas, las plantas o los animales.

En las familias existen distintas formas de relacionarse entre sus integrantes. Una muestra de ello se encuentra en los siguientes ejemplos:



Dialogo 2
HIJO: Oye, papá, quería comentarte un problema que tengo...
PADRE: No me molestes, ¿qué no ves que estoy ocupado?
HIJO: Sólo quería decirte que...imi novia está embarazada!
PADRE: ¿Qué? ¡Estás loco! En este momento te largas de mi casa y te las arreglas solo.

Anota un dialogo entre padre e hijo con una forma de relacionarse más tolerante.

¿Qué diferencias encuentra entre los diálogos anteriores? _____

¿Qué opina de la actitud de los personajes?
Dialogo 1 _____
Dialogo 2 _____

¿Qué haría usted si viviera la situación del padre del diálogo 2?

Escriba en los cuadros correspondientes los nombres de los integrantes de su familia y una palabra que los caracterice.

Integrante de su familia	Palabra que lo caracteriza

Describe a la persona con la que se lleve mejor en su familia: _____

¿Por qué se lleva mejor con esa persona? _____

¿Con qué personas de su familia tiene dificultades para relacionarse? ¿Por qué? _____

Seleccione tres de las palabras siguientes que según usted expresan actitudes o comportamientos que favorecen las buenas relaciones familiares:

Solidaridad	Respeto	Disciplina
Maltrato	Indiferencia	Apoyo
Obediencia	Autoritarismo	Honestidad
Tolerancia	Afecto	Trato igualitario

En una familia pueden existir problemas por la forma de ser, pensar o actuar de alguno de sus integrantes. Por ejemplo, practicar hábitos que no son compartidos por los demás, como el consumir alcohol o tabaco; o manifestar actitudes consideradas irresponsables como permanecer indiferente ante los problemas económicos de la familia. Una manera de solucionar los problemas que existen entre los diferentes miembros de una familia es fomentar entre ellos valores como: **solidaridad, respeto, disciplina, honestidad, paciencia, tolerancia, afecto y sobre todo que entre ellos exista una buena comunicación.**

Lo que aprendemos en nuestra casa

Observe las siguientes imágenes:

A) De nuestros padres, recibimos enseñanzas que forman nuestra personalidad.




B) En la familia, empezamos a practicar actitudes importantes para la convivencia.

C) Nuestras costumbres familiares, son la base de nuestro comportamiento en la sociedad.



D) En nuestra casa, aprendemos a expresar lo que sentimos.



E) La presencia del padre en la educación de los hijos es muy importante.



¿Cree que lo que se ilustra es cierto? ¿Cuál o cuáles de las ilustraciones le parece que muestra la importancia de lo que aprendemos en nuestra casa?

Explica tu respuesta: _____

Lo que vemos y hacemos diariamente en nuestra familia influye en nuestro comportamiento dentro y fuera del grupo familiar. Las experiencias cotidianas con nuestros familiares nos enseñan a convivir con otros. Las relaciones familiares son importantes para el desarrollo de nuestra persona.

¿Cómo solucionar nuestros problemas?

A veces la solución a nuestros problemas **está en nosotros/as mismos/as**, en decidirnos a actuar. En casos difíciles de resolver, necesitamos que alguien que no forma parte de la familia nos ayude.

En México existen instituciones dedicadas a la protección y apoyo a las familias que cuentan con personal profesional y especializado para ello.

Cada familia es distinta, por la historia de vida de sus integrantes. También existen distintas formas de relacionarnos con nuestros familiares. Factores como el respeto, el afecto, la indiferencia o el autoritarismo influyen en nuestras relaciones familiares. No existen soluciones únicas para resolver los problemas que se presentan en nuestra casa, pero hay instituciones que ofrecen servicios de ayuda para el bienestar familiar. Podemos acudir a ellas. También podemos promover la comunicación para mejorar las relaciones en la familia.

⇒ Las funciones, características de la familia.

⇒ La historia de mi familia.

Conocer los cambios que han sucedido en la historia de vida de nuestra familia, nos ayuda a entender mejor cómo somos, cómo vivimos y cómo nos relacionamos hoy, sus integrantes.

Todas las familias tienen un origen. Éste depende del lugar y del tiempo en que viven sus integrantes, así como de sus costumbres y formas de pensar. La historia de nuestra familia se puede apreciar en las fotografías, los objetos y los relatos que conservamos como testimonio de una vida compartida.

La familia sigue siendo la base de la sociedad pero su forma de organización y algunas de sus funciones han cambiado a través de la historia. Estos cambios han beneficiado al ser humano en algunos aspectos. Por ejemplo, actualmente se reconocen los derechos de la mujer y los hijos, además de los del padre. Pero también se han producido cambios que dejan desprotegidos a algunos miembros de la familia.

Como sea que se integre la familia, sigue siendo el núcleo básico de la sociedad, en la medida en la que ella reproduce biológicamente a la especie humana, y es su espacio se reproduce la identificación con el grupo social.

Las principales funciones de la familia son las siguientes:

- Satisfacer las necesidades básicas del ser humano, tales como: alimentación, habitación, salud, protección, afecto, y seguridad.
- Transmitir a las nueva generaciones: una lengua y formas de comunicación, conocimientos, valores, sentimientos, normas de comportamiento, y de relación con los demás, creencias y expectativas para el futuro. Éstos son elementos importantes que vinculan a una familia con la sociedad a la que pertenece.
- Educar para la vida, es decir, formar a los integrantes de la familia de modo que sean capaces de desarrollarse productivamente como personas, como estudiantes o trabajadores, y como miembros de una comunidad, a lo largo de toda su vida.

III. COMUNIDAD

⇒ **Identificación de los problemas de la comunidad.**

☞ Los servicios de la comunidad.

La vida en comunidad genera distintas necesidades. Ya sea por el número de habitantes, las características del lugar, el tipo de actividades que las personas desarrollan o los problemas que enfrentan.

Para satisfacer muchas de estas necesidades se requiere de la instalación o mejoramientos de servicios públicos diversos. Existen diferentes tipos de servicios públicos. La mayoría de ellos los proporciona el gobierno; otros, los concede a particulares, por ejemplo el transporte. También hay mixtos, es decir, el gobierno pone el material y los ciudadanos el trabajo. Es común observar fallas o problemas en los servicios públicos, que impiden su buen funcionamiento. Algunos de estos problemas pueden tener como causas ciertas fallas en el desempeño y en la organización de los recursos humanos, en la calidad de los recursos materiales que se utilizan o en la falta de presupuesto.

Los servicios públicos son recursos que una comunidad necesita para vivir mejor, por ejemplo: alumbrado, limpieza, vigilancia, hospitales y medios de comunicación, entre otros. Las comunidades que no cuentan con servicios públicos se ven afectadas en sus actividades cotidianas.

Otras comunidades también se ven afectadas por el mal funcionamiento de los servicios públicos que tienen. El mal funcionamiento puede deberse a varias causas como: falta de presupuesto, mala calidad de los materiales, corrupción de la gente o deficiencias en la organización de los servicios.

⇒ **Importancia de la organización para enfrentar situaciones de interés común.**

☞ **Qué podemos hacer por la comunidad.**

¿Cuáles son los problemas que observa en el funcionamiento de los servicios de su comunidad?

Servicios	Problemas
Agua	Carencia y mal uso
Salud	Falta de personal y atención deficiente
Vigilancia	

Alumbrado	
Limpieza	

Complete la tabla.
Fíjese en el ejemplo siguiente:

Para mejorar nuestra comunidad necesitamos ampliar el conocimiento que tenemos acerca de los problemas que la afectan, así como de las formas en que podemos actuar para contribuir a resolverlos. Lograr esto no es fácil, es necesario tomar decisiones individuales y colectivas, planear, trabajar continuamente hasta lograr lo que nos hemos propuesto. En ocasiones es necesario unir esfuerzos con otras personas para participar, compartir responsabilidades y realizar actividades de interés común.

Una vez identificados los problemas que afectan a la comunidad y que sus habitantes tienen la disponibilidad para realizar acciones para resolverlos, es necesario que se elabore un plan o proyecto comunitario.

A continuación se presentan los pasos a seguir para realizar un proyecto:

1. IDENTIFICACIÓN DEL PROBLEMA
Ante todo, hay que tomar en cuenta que el problema sea importante, es decir, que su solución sea del interés de todo el grupo o de su mayoría; esto facilitará que se generen los medios para resolverlo. El interés de tantas personas aumenta la probabilidad de que se unan sus esfuerzos. También es preciso detectar la naturaleza del problema. Mientras más claro se tenga cuál es el problema y por qué lo es, más fácilmente se progresará en el proyecto.
2. IDENTIFICACIÓN DE LAS CAUSAS DEL PROBLEMA
Conocer las causas de un problema es una importante condición para solucionarlo. Las respuestas a preguntas como: <i>¿a qué se debe que los caminos estén en malas condiciones?</i> , nos ayudarán a escoger el método o forma de solución más adecuada. Así se evitan acciones innecesarias y se localizan medidas urgentes. Se dice que si el problema está bien escogido y sus causas bien definidas, el proyecto ya ha avanzado en un 50 por ciento.
3. DEFINICIÓN DE PROPÓSITOS
Es muy importante precisar qué es lo que se quiere lograr, es decir, cuáles son los objetivos o los propósitos. La falta de acuerdo en lo que se quiere lograr para solucionar el problema, puede impedir que se consolide el proyecto. Cuando se persiguen los mismos propósitos, se facilita establecer las prioridades y la secuencia del proyecto.
4. INVESTIGACIÓN DE INFORMACIÓN ÚTIL
Toda información puede resultar provechosa para la resolución de un problema. Obtener el mayor conocimiento posible sobre aquello que nos afecta es necesario para comenzar a combatirlo; la obtención de datos ofrece una gama de posibilidades que permiten elegir, entre todas ellas, la más indicada.
5. IDENTIFICACIÓN DE RECURSOS
Determinar los recursos humanos y materiales con los que se cuenta, ayuda a conocer las posibilidades reales y las potenciales para solucionar un problema. Muchos proyectos se interrumpen o se abandonan por falta de recursos; otros, los que sí se realizan, han

comenzado por establecer un programa de actividades enfocadas a obtenerlos.
6. DEFINICIÓN Y CALENDARIZACIÓN DE ACTIVIDADES
Ésta es una medida muy importante para iniciar las acciones concretas que resolverán el problema. Cada una de las actividades debe tener una razón y una meta específica que justifique su ejecución. Al alcanzar esta meta, debe haber otra actividad que asegure la continuidad y el desarrollo del proyecto. Deben establecerse fechas y tiempos para cada actividad según sean sus propósitos, recursos y circunstancias. Este orden permite, en el caso de que el proceso se vea interrumpido por cualquier causa, continuar con el proyecto sin necesidad de volver a su fase inicial.
7. DESARROLLO DE ACTIVIDADES
Esta etapa del proyecto corresponde a la acción propiamente dicha. En donde cada uno de los miembros de la comunidad debe ejecutar eficazmente las actividades que le fueron asignadas según sus conocimientos o sus posibilidades. Todos deben desarrollar su trabajo de acuerdo con los objetivos que se fijaron y siguiendo el calendario de actividades del proyecto.
8. EVALUACIÓN DE ACTIVIDADES
Una vez concluido el proyecto, se hace una evaluación final para reflexionar sobre cada una de sus fases, la eficacia del método que siguieron y los resultados obtenidos. Esta etapa debe ser un análisis crítico y responsable que logre que los participantes tomen conciencia de sus logros y fallas, así como de su potencial como grupo, para hacer frente a otras necesidades de su comunidad.

En el cuadro siguiente aparecen los pasos a seguir para desarrollar un proyecto. Ordénelas escribiendo en los cuadros de la derecha los números del 1 al 8, que indiquen la secuencia que éstas deben tener. Ponga el uno a la más importante.

Evaluación de actividades	
Definición y calendarización de actividades	
Identificación del problema	
Identificación de las causas del problema	
Investigación de información útil	
Definición de propósitos	
Identificación de recursos	
Desarrollo de actividades	

⇒ **Importancia de realizar acciones para proteger los recursos naturales de la comunidad.**

- ⇒ ¿Cómo es y cómo era mi comunidad?
- ⇒ En ocasiones los cambios a la comunidad nos perjudican.
- ⇒ También nosotros cambiamos a la comunidad.

Seguramente usted ha sido testigo de algunos cambios que se han dado en su comunidad. Tal vez sabe de otros que no le ha tocado vivir o en los que no ha participado.

Desde que se originó la Tierra, hace aproximadamente cinco mil millones de años, se han dado cambios producidos por fenómenos naturales. Mucho tiempo después los cambios también se dieron a causa de las actividades que el ser humano ha realizado y realiza aún, tales como la cacería, agricultura, pesca y recolección de plantas y frutos. Algunos cambios los producen fenómenos naturales como el clima, los huracanes y los sismos. Otros son producidos por el hombre al transformar la naturaleza.

Revisemos lo siguiente:

Cambios en el área rural

Actividades como la cacería y la depredación han disminuido la población de ciertas especies animales. En otros casos, la tala indiscriminada, la contaminación del aire, del agua y del suelo, amenazan la vida de nuestros bosques y selvas. Ya sea por hábitos o costumbres, por descuidos inconscientes o por ignorancia, hemos modificado peligrosamente nuestro medio ambiente.

Asimismo, el medio ambiente se deterioró con el desarrollo de la agricultura, la minería y la ganadería, que produjeron el aumento de la población y el establecimiento de ciudades. El desconocimiento de la naturaleza y los malos hábitos, como arrojar la basura a los terrenos baldíos o causar encharcamientos de agua en la calle, son causas de alteración del medio ambiente, y de daños a la salud por enfermedades infecciosas.

Actividades tradicionales como la cacería o la quema de plantíos también han contribuido a afectar la naturaleza. Algunas especies animales han sido protegidas en reservas o parques nacionales debido a que están en peligro de extinción. Se considera que son alrededor de 150 las especies que peligran, entre ellas: el venado cola blanca, el faisán, el conejo de los volcanes y el perro de las praderas. A otras especies se les protege estableciendo la prohibición de cazarlas y pescarlas durante la época en que se están reproduciendo; a esta prohibición se le llama **veda**.

La tala y la explotación de los bosques no es menos despiadada. Aunque los bosques de coníferas, pino y encino cubren aproximadamente el 15 por ciento del territorio nacional, la explotación de la madera, la leña, la resina y el carbón ha disminuido exageradamente el número de sus árboles.

Cambios en el área urbana

Algunas ciudades cuentan con un gran número de habitantes y una amplia zona industrial. Esto es causa de aumento en los problemas relacionados con el medio ambiente y la salud. Muchas áreas urbanas ya tienen problemas de contaminación ambiental por sus actividades comerciales, por deficiencias en los servicios públicos, o por sus características geográficas.

La contaminación de los lagos, ríos, lagunas y presas que abastecen de agua a las ciudades también es una causa importante de daños a la salud. Se considera que las sustancias contaminantes más peligrosas son aquellas que se degradan o desaparecen más lentamente. Estas sustancias abundan tanto en los basureros comunitarios como en los caseros y provienen de ciertos productos derivados del mercurio y el plomo o de insecticidas clorados. Pero también se encuentran en los desechos de las carnes, los vegetales y las

legumbres que consumimos y que fueron contaminados durante su producción y cultivo en el campo. Ciertos animales domésticos como gatos y perros, a menudo tienen contacto con la basura y consumen desechos contaminados. Las personas de la familia se exponen a contagios e infecciones en su convivencia con estas mascotas.

La contaminación del aire es característica de las ciudades más pobladas, ya que está directamente relacionada con el transporte y con las industrias.

La contaminación del aire o *smog* es más notoria cuando se presenta como una mancha de humo o neblina, que se ve así porque se concentran diferentes sustancias producidas por la combustión de petróleo, carbón y sus derivados. La más común es el monóxido de carbono, que es un gas tóxico.

La intoxicación por monóxido de carbono, que en gran parte proviene de los automóviles, provoca en las personas mareos, dolores de cabeza, cansancio, pérdida momentánea de la visión y de la conciencia o sentido del tiempo.

El efecto dañino de la contaminación de autos y fábricas se puede apreciar también en el fenómeno conocido como *lluvia ácida*. Este fenómeno se presenta cuando los óxidos de azufre y nitrógeno que se producen con la combustión de gasolina, petróleo y diesel entran en contacto con el agua de la lluvia y se transforman en ácidos. Esta lluvia perjudica los terrenos con rocas muy pobres en calcio, afecta de modo muy serio la vegetación, los edificios y monumentos. El ser humano puede percibir su efecto en la inflamación de las mucosas y en la irritación de los ojos y la piel.

Medidas preventivas

En el México actual también existen leyes y reglamentos para proteger el medio ambiente y los recursos naturales. La Constitución de 1917, en el artículo 27, contiene un párrafo en el que define el papel del Estado en la conservación de la naturaleza.

Otro recurso es la Ley General del Equilibrio Ecológico y Protección del Ambiente, aprobada en 1988. Esta ley es la base de todas las reglamentaciones sobre la protección de las especies y el establecimiento de parques y reservas.

Algunos de los problemas del campo y de la ciudad, que son causa de muchos cambios en las comunidades, pueden prevenirse y solucionarse. Por fortuna, la sociedad mexicana cada día está más consciente de la importancia de la naturaleza. Grupos y asociaciones civiles trabajan ya en la protección del medio ambiente.

Algunas medidas o acciones preventivas pueden ser las siguientes: **a)** educar para formar una nueva conciencia con respecto a la naturaleza y la salud; **b)** organizar campañas que promuevan acciones para el cuidado del medio ambiente; **c)** crear y proteger las reservas y parques naturales; **d)** explotar moderadamente los recursos naturales; **e)** emitir y cumplir las leyes y reglamentos que protegen a la naturaleza.



III. MEXICO

⇒ Regiones naturales y diversidad cultural

⇒ Un país rico y diverso

Las regiones naturales están formadas por conjuntos de seres vivos, plantas y animales, un tipo de suelo, de clima, de relieve, o sea, las formas del paisaje, por la presencia de agua. Todos estos componentes están relacionados entre sí. Existen distintas regiones naturales en México: bosques de coníferas y encinos, pastizal, matorral, chaparral, sabana, bosque de montaña, selva seca, selva húmeda, región de suelo salino y una región marina que comprende las costas y parte de los océanos y mares que rodean a México. A continuación se describe cada una de ellas:

TIPOS DE REGIONES NATURALES
<p>Bosques de coníferas y encinos</p> <p>Se localizan en lugares de clima templado con lluvias todo el año, corresponde a gran parte de los lugares montañosos. Estos bosques se conforman por árboles de hojas caducas como fresnos, encinos, robles y nogales, alternados con pinos. Los bosques de coníferas tienen variedades como los abetos, ocotes, oyameles y pinos. La fauna de estas regiones la conforman ardillas, coyotes, venados, el gato montés y algunas especies en peligro de extinción, como el berrendo.</p>
<p>Bosque de montaña</p> <p>Es característico de lugares con un clima templado en el verano y frío en el invierno. En esta zona hay pastos y matorrales muy verdes. Los árboles son de maderas duras, como los robles, oyameles, abetos, abedules y nogales. La fauna es variada. Hay aves como la lechuza y el halcón, roedores, zorras y gatos monteses.</p>
<p>Pastizal</p> <p>El pastizal semitropical se da en tierras poco fértiles con suelos muy porosos. Se caracteriza por extensas praderas de poca altura, con pastos que se polinizan o fecundan por la acción del viento. La flora o vegetación se encuentra de manera dispersa, es abundante en maleza y hay pocos árboles. Son pocas las especies de animales. Predominan las iguanas y los insectos. En lugares de clima templado también hay pastizales, tienen características parecidas a los que existen en los lugares semitropicales. La fauna es más variada. En ellos viven topos, tuzas, ardillas terrestres, ratones y serpientes.</p>
<p>Matorral</p> <p>Esta zona es característica de un clima seco. Abundan las plantas pequeñas con raíces muy profundas y extensas. Algunas plantas son espinosas, con hojas gruesas y siempre verdes, como los mezquites, huizaches y lechuguilla. La fauna está representada, principalmente, por serpientes, reptiles y arácnidos</p>
<p>Chaparral</p> <p>Es propio de un clima extremoso, con veranos secos y cálidos e inviernos fríos. En ciertos lugares convive y se confunde con la zona de <i>matorral</i>. La vegetación es escasa, casi siempre plantas pequeñas de vida corta, con semillas resistentes a las altas temperaturas y al fuego, y de raíces profundas. Roedores, aves de rapiña, lagartijas y serpientes son características de su fauna.</p>
<p>Sabana</p>

Esta zona se encuentra en lugares con un clima tropical con lluvias en verano. La vegetación o flora está constituida por extensas llanuras de verdes pastizales en el verano que se hacen amarillos en la temporada seca. En estas regiones se realizan cultivos como el de la caña de azúcar. Los pastos permiten el desarrollo de la ganadería. La fauna se caracteriza por la variedad de insectos, reptiles y arácnidos.

Selva seca

Esta zona se localiza en lugares con un clima caliente y seco, con lluvias escasas y largos periodos de sequía. Su vegetación es escasa, con matorrales leñosos y árboles de poco follaje que pierden sus hojas durante los largos periodos de sequía, y las recuperan en la época de lluvias. La fauna la conforman reptiles, insectos y arácnidos.

Selva húmeda Es una zona propia de un clima cálido y lluvioso. La humedad que conserva su suelo permite el crecimiento de árboles de maderas preciosas, como el cedro y la caoba. Esto la hace una zona de intensa explotación forestal. Existen plantas trepadoras y parásitas, las primeras buscan el soporte de árboles y plantas de mayor altura; las segundas, viven sobre otras plantas de las que obtienen el agua y el alimento que necesitan para vivir. La fauna es variada en aves de hermoso plumaje, como loros, tucanes y guacamayas, así como en monos, reptiles e insectos.

Región de suelos salinosos

Se encuentra en lugares con un clima cálido y seco. La vegetación se caracteriza por palmas, cocoteros, cactáceas y algunos árboles de tipo tropical. En zonas cercanas se pueden desarrollar actividades agrícolas, el cultivo de la caña y del plátano. La fauna es variada en reptiles, insectos y arácnidos.

Región marina

Esta zona es propia de un clima caluroso, tropical, con un suelo rocoso o arenoso propio de los litorales. En los suelos rocosos abundan las algas y los arrecifes coralinos, que conviven con gran variedad de animales, por ejemplo: esponjas, mariscos, calamares, gusanos, almejas, cangrejos y peces.

La riqueza natural de México también es apreciada en sus recursos minerales, es decir, en la diversidad de minerales que existen en su suelo y que son extraídos para distintos usos.

La gran diversidad de regiones en el país hace de México una tierra fértil para la existencia vegetal, animal y mineral. A pesar de ello, muchas especies vivas corren el riesgo de extinguirse para siempre en nuestro territorio y en el mundo. Algunas causas de esto son la caza sin control, así como el desequilibrio de la naturaleza que produce el ser humano y que impide a estas especies sobrevivir. El petróleo y otros importantes minerales han fortalecido la economía del país y también son recursos que nos pertenecen y debemos cuidar. Es necesario evitar que su explotación produzca más daños que beneficios a la ecología.

⇒ **Soberanía, estado de derecho, constitución derechos humanos**

⇒ Un estado de derecho.

Uno de los factores que hacen posible la convivencia de la población, es la existencia de leyes. Cuando el gobierno y el pueblo cumplen con los ordenamientos de ley, se dice que se vive en un Estado de derecho

La soberanía nacional reside esencial y originariamente en el pueblo. De ahí que el pueblo tenga derecho a decidir su forma de gobierno, elegir a sus gobernantes y participar en la dirección de los asuntos públicos. Todo poder público deriva del pueblo y se instituye para beneficio del propio pueblo, en el entendido de que éste, tiene todo el tiempo el derecho de alterar o modificar la forma de su gobierno.

¿Qué significa la soberanía ante otros países?

ÚLTIMA HORA

Veracruz, 21 de Abril de 1914

Después de un reñido combate en que los cadetes de la escuela Naval, algunas tropas del 19º. Batallón, hombres, mujeres y niños intentaron resistir a los invasores, marineros provenientes de la escuadra estadounidense anclada en este puesto, estos se apoderaron finalmente de la ciudad. Hoy la

Protesto la SRE por incursiones de barcos de EU en aguas mexicanas

México, 22 de febrero de 1988.

El gobierno mexicano protestó ante Estados Unidos por posibles incursiones de la Guardia Costera de ese país en aguas territoriales mexicanas. La chancillería advirtió que deben respetarse estrictamente la soberanía nacional, la jurisdicción territorial y el Derecho Internacional del Mar.

¿Cuántos años de diferencia hay entre una noticia y otra? _____

¿En que se parecen las noticias anteriores? _____

¿Qué otras formas de violación a la soberanía de un país conocen? _____

¿Qué pasa cuando un país viola la soberanía de otro país? _____

Estado de Derecho

Estado y Derecho no pueden existir por sí mismos, el uno necesita del otro, porque los dos se armonizan y complementan. Así como el Derecho se encarga de dar las leyes lo mismo al pueblo que al gobierno, el Estado, a través de sus poderes públicos, se encarga de cumplirlas y hacerlas cumplir. Como un Estado no puede existir ni funcionar de otra manera es, en consecuencia, un *Estado de Derecho*.

Estado y Derecho tienen un fin o meta común: el beneficio de la nación, que siempre debe ser la destinataria de la actividad estatal. El Derecho busca garantizar que la finalidad del Estado no sea distinta, mucho menos opuesta o contradictoria, a la de la nación.

Para que esto se cumpla, cada ciudadano de este país debe cumplir y hacer cumplir las leyes, ejercer sus derechos (como por ejemplo al voto) y protestar ante la autoridad correspondiente, cuando considere que éstos no son respetados.

También es importante que atienda a los informes que las autoridades rinden cada año, como el del Presidente, el del Gobernador de su estado o el de su Presidente Municipal. De esta manera, estará informado sobre las acciones de cada gobierno y podrá exigir a las autoridades el cumplimiento cabal de sus compromisos y funciones. Conocer la historia del Estado mexicano es importante para conocer más acerca de nuestros antepasados, del país en que vivimos y del mundo que heredaremos a nuestros hijos e hijas. Las leyes que rigen la nación son el pensamiento de muchos mexicanos que también se interesaron por el futuro de su país.

Actualmente México es un Estado de derecho. Esto quiere decir que el gobierno y el pueblo deben cumplir lo que las leyes les ordenan, en beneficio de toda la nación. México también es un país soberano y esto significa que es dueño de su territorio y su destino. Los mexicanos tenemos derecho a expresar nuestro sentir hacia el gobierno; también tenemos el deber de cumplir y hacer cumplir las

• ¿Conocemos nuestra Constitución política?

La Constitución Política de los Estados Unidos Mexicanos es el documento que contiene las leyes que rigen actualmente a nuestro país. También se le llama Carta Magna y fue elaborada en 1917. En ella se señala cómo debe organizarse nuestra nación, acorde con las demandas por las que el pueblo luchó durante la Revolución. Es muy importante saber que nuestra Constitución fue la primera en el mundo en incluir los derechos sociales. Los derechos sociales son obligaciones que el Estado tiene con la sociedad, como impartir y garantizar educación y salud, entre otros.

Explique con sus palabras ¿Qué es una constitución y para que nos sirve?

Revisemos algunos artículos de la Constitución Mexicana

El **artículo 3º** de la Constitución Política de los Estados Unidos Mexicanos señala en su inicio: "Todo individuo tiene derecho a recibir educación. El Estado, la federación, los estados y municipios- impartirán educación preescolar, primaria y secundaria. La educación primaria y la secundaria son obligatorias."

También en su inicio el **artículo 24** señala: "Todo hombre es libre para profesar la creencia religiosa que más le agrade y para practicar las ceremonias, devociones o actos del culto respectivo, siempre que no constituyan un delito o falta en materia penal."

¿Qué importancia tiene para las personas lo que está escrito en los artículos anteriores?

⇒ **La importancia de ejercer nuestros derechos como la mejor forma de defenderlos**

⇒ ¿Cómo es y cómo era mi comunidad?

• Todos tenemos derechos

¿SABE QUÉ SON Y CUÁLES SON SUS DERECHOS HUMANOS? Si usted no lo sabe, ¿de qué sirve que los tenga?, ¿cómo puede exigir que se le respeten, si no los conoce?

Los **derechos humanos** —como su nombre lo indica— son las garantías que tiene cada mujer y cada hombre por el simple hecho de serlo y formar parte de la sociedad en que vive.

Todos los seres humanos, tanto los hombres como las mujeres, las niñas y los niños, las ancianas y los ancianos; los/as indígenas y los/as mestizos; los/as negros y los/as blancos; los que hablan español, náhuatl, u otras lenguas; los que profesan una religión y los que no tienen religión alguna; los que tienen una profesión y trabajo y los que no tienen profesión o trabajo alguno; los ricos como los pobres; los discapacitados, **todos tenemos los mismos derechos humanos.**

La importancia de los derechos humanos está en su finalidad: **Proteger principalmente, la vida, la libertad, la dignidad, la igualdad, la seguridad, la integridad física y la propiedad de cada ser humano.**

Una de las grandes conquistas de la humanidad ha sido lograr que los Derechos Humanos sean reconocidos en declaraciones y pactos internacionales. En México, estos derechos tienen un reconocimiento jurídico en las distintas constituciones que hemos tenido. Actualmente, la **Comisión Nacional de Derechos Humanos** es la institución responsable de protegerlos y promoverlos.

Sin embargo, en el país aún se violan estos derechos. Por ello, es importante y necesario conocerlos. Todos nosotros, al igual que las autoridades federales, de los estados, de los municipios y del Distrito Federal, debemos respetarlos.

¿Conoce usted algunos de los derechos que tiene como ciudadano?, ¿cuáles?

¿Considera usted que son respetados nuestros derechos? ¿Por qué?

Describa algún suceso en el que hayan sido violados sus derechos o de alguna persona que conozca y lo que han hecho en su defensa.

Los Derechos Humanos se clasifican en: **Derechos individuales, Derechos sociales y Derechos de los pueblos o naciones.** En la Constitución Mexicana, los Derechos individuales se encuentran principalmente en el capítulo llamado **De las Garantías Individuales.**

Algunos de ellos son los siguientes:

En México, todo individuo tiene derecho a gozar y disfrutar por igual de las garantías previstas en la Constitución. Por ello, la posición económica o social, la raza, el color, el origen étnico, nacional o familiar, la religión, las ideas políticas, el idioma o el sexo, no deben ser motivo de discriminación o ventaja para las personas.

- En nuestro país está prohibida la esclavitud. Por ello, todo esclavo que llegue del extranjero a nuestro territorio obtendrá su libertad y será protegido por las leyes mexicanas.
- Las mujeres y los hombres son iguales ante la ley. La diferencia de sexos jamás podrá ser pretexto para dar un trato distinto.
- Toda persona tiene libertad de decidir el número de hijos y el momento en que desea tenerlos.
- Toda persona tiene libertad de elegir el trabajo, la profesión o actividad comercial que desee, siempre que ésta sea legal.
- Toda persona tiene derecho a entrar y salir del país, trasladarse o viajar libremente por el territorio nacional.

- Toda persona tiene derecho a expresar libremente sus ideas.
- Existe libertad para practicar la religión que se desee.

Para vivir en un Estado de Derecho se necesita una Constitución. La Constitución son las leyes que le dan orden y dirección a una sociedad. Este conjunto de mandatos hace posible la convivencia de la población: señalan los derechos y las obligaciones de todos los mexicanos. En México existen instituciones creadas para defender y hacer cumplir los derechos humanos como lo son: La Procuraduría de justicia, el Ministerio Público, la Comisión de Derechos Humanos, etc.